

A	C	D	E	F	I	L	M	O	P	R	S	T	V	X	Z
13	22	23	31	47	38	51	45	33	40	20	66	32	42	79	73

$35 + 10 =$	$7 + 6 =$	$27 + 18 =$	$8 + 5 =$	$16 + 15 =$

$19 + 23 =$	$28 + 5 =$	$12 + 10 =$	$18 + 13 =$	$20 + 11 =$

$12 + 19 =$	$54 + 12 =$	$31 + 9 =$	$27 + 4 =$	$18 + 4 =$	$24 + 14 =$	$12 + 1 =$	$26 + 25 =$

1	2	3	4	5	6	7	8	9	10	11	12	13	14	15	16	17
A	B	C	D	E	F	G	H	I	J	L	M	N	O	P	Q	R
18	19	20	21	22	23											
S	T	U	V	X	Z											

3×5	17×1	5×1	3×1	3×3	9×2	1×1	3×4	7×2	9×2

3×5	$15 + 2$	2×7	$18 + 1$	$4 + 1$	$2 + 5$	$3 + 2$	$16 + 1$	1×1	$9 + 9$

1×1	17×1	3×7	7×2	17×1	5×1	$20 - 2$

ALUNOS:	VOLEI	BASQUETE	FUTEBOL	NATAÇÃO
1a SÉRIE	10	15	32	6
2a SÉRIE	12	11	26	10
3a SÉRIE	13	12	20	10
4a SÉRIE	14	20	21	11
TOTAL:				

QUANTOS ALUNOS TEMOS NA:

1a SÉRIE		2a SÉRIE		3a SÉRIE		4a SÉRIE	
----------	--	----------	--	----------	--	----------	--

QUANTOS ALUNOS FAZEM CADA ESPORTE:

VOLEI		BASQUETE		FUTEBOL		NATAÇÃO	
-------	--	----------	--	---------	--	---------	--

63	37	59	58	57	49	56	55	99	98	66
----	----	----	----	----	----	----	----	----	----	----






ALUNO:	TINHA	GANHOU	FICOU
ANA	10	7	
BIA	19	12	
CARLOS	12	10	
DANIEL	17	15	
EVA	23	21	
JORGE	54	38	
LAÍS	34	27	
LUCAS	72	19	
MARIA	37	36	
MARCOS	21	18	
VERA	11	10	
VITOR	87	13	

72	44
73	17
98	100
31	92
40	39
61	22
21	91
62	32

ALUNO:	TINHA	GASTOU	FICOU
ANA	40	20	
BIA	39	17	
CARLOS	54	28	
DANIEL	66	19	
EVA	45	24	
JORGE	54	38	
LAÍS	77	28	
LUCAS	72	19	
MARIA	77	36	
MARCOS	21	18	
VERA	56	24	
VITOR	87	13	

72	20
73	22
26	21
47	16
59	39
53	41
3	74
62	32

OLHE BEM PARA OS CONJUNTOS APRESENTADOS:

<p>A</p> 	<p>B</p> 	<p>C</p> 
<p>D</p> 	<p>E</p> 	<p>F</p>

MARQUE COM V (VERDADEIRO) E F (FALSO):

- | | |
|--------------------------|--------------------------------------|
| <input type="checkbox"/> | O CONJUNTO A É UM CONJUNTO VAZIO. |
| <input type="checkbox"/> | O CONJUNTO E É UM CONJUNTO UNITÁRIO. |
| <input type="checkbox"/> | NÃO HÁ NENHUM CONJUNTO VAZIO ACIMA. |
| <input type="checkbox"/> | O CONJUNTO E É UNITÁRIO. |
| <input type="checkbox"/> | O CONJUNTO F É VAZIO. |
| <input type="checkbox"/> | O CONJUNTO A, B e D SÃO VAZIOS. |