


NOME: \_\_\_\_\_

DATA: \_\_\_\_\_ TURMA: \_\_\_\_\_

## MATEMÁTICA

### FIGURAS PLANAS

<b>FIGURA</b>	<b>NOME</b>	<b>NÚMERO DE LADOS</b>
		
		
		
		
		

NOME: \_\_\_\_\_

DATA: \_\_\_\_\_ TURMA: \_\_\_\_\_

MATEMÁTICA

FIGURAS PLANAS

<b>NOME</b>	<b>FIGURA</b>	<b>NÚMERO DE LADOS</b>
<b>PENTÁGONO</b>		
<b>LOSANGO</b>		
<b>TRAPÉZIO</b>		
<b>HEXÁGONO</b>		

NOME: \_\_\_\_\_

DATA: \_\_\_\_\_ TURMA: \_\_\_\_\_

MATEMÁTICA

<b>NÚMERO DE LADOS</b>	<b>FIGURAS</b>	<b>NOME</b>
<b>3</b>		
<b>4</b>		
<b>5</b>		
<b>6</b>		
<b>7</b>		

NOME: \_\_\_\_\_

DATA: \_\_\_\_\_ TURMA: \_\_\_\_\_

## MATEMÁTICA






COMPLETE O QUADRO:

CUBO	ARESTAS	VÉRTICES	FACES
			
PARALELEPÍPEDO			
PIRÂMIDE BASE HEXAGONAL			
PIRÂMIDE BASE QUADRADA			
PIRÂMIDE BASE TRIANGULAR			

NOME: \_\_\_\_\_

DATA: \_\_\_\_\_ TURMA: \_\_\_\_\_



MATEMÁTICA

POLÍGONO	NOME	Nº DE VÉRTICE	Nº DE ÂNGULO
			
			
			
			
			

NOME: \_\_\_\_\_

DATA: \_\_\_\_\_ TURMA: \_\_\_\_\_

**MATEMÁTICA - ESPAÇO E FORMA**

<b>FIGURA GEOMÉTRICA</b>	<b>NOME</b>
	
	

NOME: \_\_\_\_\_

DATA: \_\_\_\_\_ TURMA: \_\_\_\_\_

## MATEMÁTICA

FAÇA DESENHOS COM AS FIGURAS GEOMÉTRICAS ABAIXO:

